




I Čtení mapy:

1. Vyjmenujte základní kompoziční prvky mapy:

.....
.....


2. Nakreslete následující geomorfologické tvary pomocí vrstevnic:



3. Co znamenají mapové symboly na turistické mapě 1 : 50 000:



.....



.....



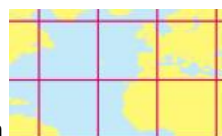
.....

4. Spojte odpovídající objekty (Př. A – 1 – a):



A

1 Azimutální



a



B

2 Cylindrické



b



C

3 Kónické



c

II Analýza a interpretace mapy:

5. Písmenem do mapy označte následující objekty: A) Makedonie B) Dněpr C) Mont Blanc



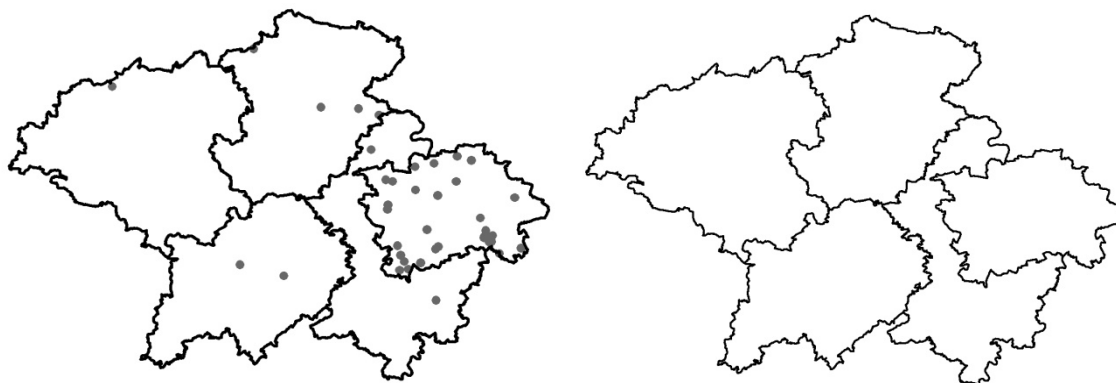
6. Mezi místy A a B jste podle údajů na turistickém rozcestníku urazili 15 km. Na vaší mapě jste tuto vzdálenost změřili jako 20 cm. Jaké je měřítko vaší mapy?

.....

7. Jak velkou plochu [cm²] bude na topografické mapě v měřítku 1 : 25 000 zabírat přehradní nádrž Lipno, která má skutečnou výměru 48 km²?

.....

8. Převeďte zobrazený Počet obyvatel tečkovou metodou na metodu kartogramu (pravého) (1 tečka = 50 000 obyvatel).

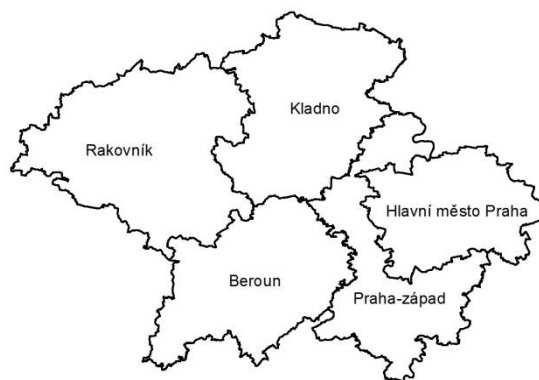


9. Z dat uvedených v tabulce vytvořte kartodiagram a nepravý kartogram zemřelých v roce 1991.

Název okresu	Výměra	Počet obyvatel 1991	Počet zemřelých 1991
Hlavní město Praha	49 613,02	121 417	12 092
Beroun	66 186,39	75 859	845
Kladno	71 963,81	150 625	1 691
Praha-západ	58 033,43	74 265	1 012
Rakovník	89 625,83	53 545	588



Kartodiagram



Nepravý kartogram